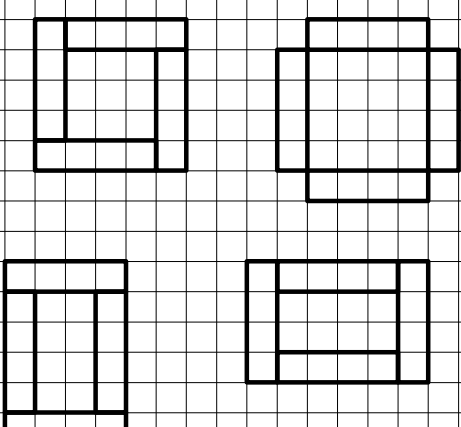
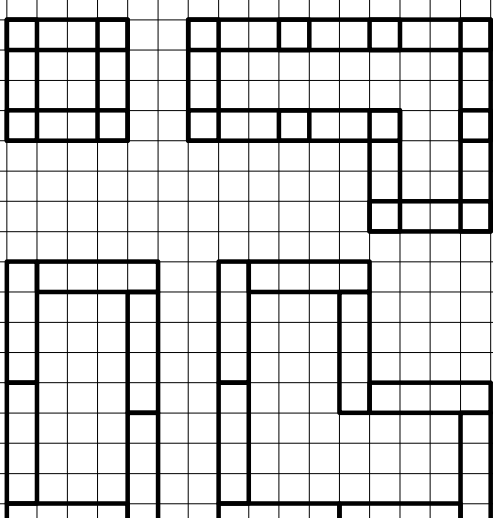

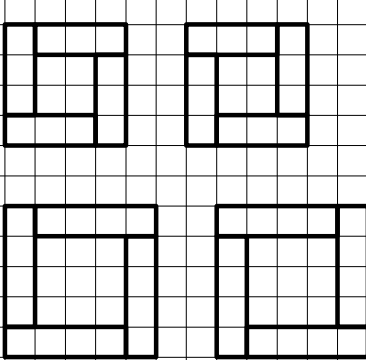


Dis una figura con il bordo fatto da rettangoli congruenti, coi lati sulla quadrettatura.

<p>Dis fig con il bordo fatto da rettangoli di lato 4 e 1</p> 	
<p>Dis fig con il bordo fatto da rettangoli di lato 3 e 1</p> 	<p>Organizzare i risultati.</p> <ol style="list-style-type: none"> 1) Con 3 non si chiude. 2) Il bordo e' fatto da un numero pari di pezzi. 3) Tipi di contatto: di lato; d'angolo; sovrapposto. 4) ...
<p>Il dis che ci interessa ha come prototipo:</p> 	<p>e ha come regola:</p> <p>4 rettangoli congruenti che cingono un quadrato, con un contatto di lato.</p>

Esercizio propedeutico per
disegnare i quadrati inclinati.